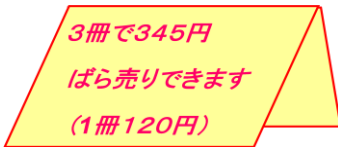

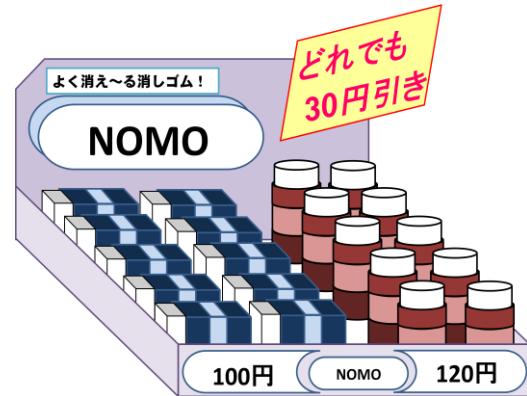


次の週にも、まもるさんは「エヌズ・ダポ」に買い物に行きました。店の中に入ると、「SALE」の文字が目にとまりました。どうやら、大売り出しのようです。



先週と比べると、セールのために商品のねだんが変わっています。

「ばら売り」ということは、3冊のたばをばらして、1冊ずつ売るということです。ばら売りだと、ノート1冊のねだんは120円になります。



- (3) えんぴつの本数を x 本、代金の合計を y 円として、下のアからエのような式に表しました。アからエの中から正しい式を1つ選び、記号を書きましょう。また、選んだ式にあうように場面をつくりましょう。

ア $110 \div 0.1 \times x + (120 - 30) = y$

イ $50 \div 0.9 \times x + (100 - 30) = y$

ウ $80 \times 0.1 \times x + 345 = y$

エ $60 \times 0.9 \times x + 120 = y$

答え ()

式に表される場面