

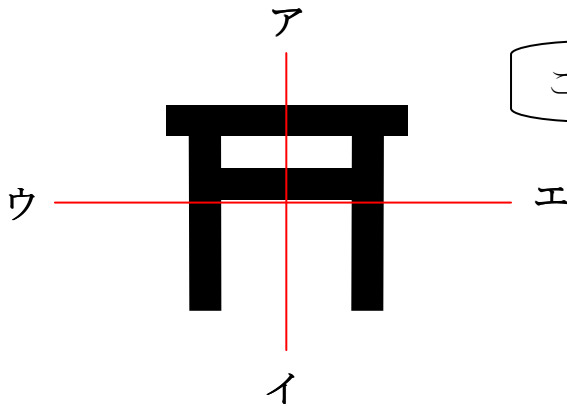
20	6年「対称な形」	組	番
	線対称な形について考えよう	名前	

まもるさんは、修学旅行で仙台市に行きます。  
仙台市の地図をみると、たくさんの地図記号がありました。



地図記号をよくみると、線対称な形をしていたり、  
点対称な形をしていたりする記号が多いですね。

- (1) 次の地図記号は線対称な形をしています。  
対称の軸は直線アイと直線ウエのどちらですか。



これは「神社」の地図記号です。



答え ( )

- (2) まもるさんは、次のように地図記号を仲間わけしました。  
神社の地図記号と同じ仲間になるのは、アとイのどちらですか。  
記号を選びましょう。また、その記号を選んだわけを書きましょう。

ア		
	(寺院)	(発電所)
イ		
	(博物館)	(小中学校)

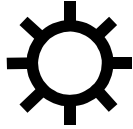
記号 ( )  
(わけ)



地図記号は、別の仲間わけも考えられます。

(3) まもるさんは、次のように地図記号を仲間わけしました。

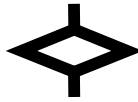
ア



(工場)



(警察署)



(税務署)



(保健所)

イ



(郵便局)



(消防署)



(官公署)



(裁判所)

どのように仲間わけをしたのでしょうか。

下のキーワードと言葉を使って説明しましょう。

キーワード

対称の軸

線対称

(説明)